



Instituto de la Educación Básica del Estado de Morelos

INSTITUTO DE LA EDUCACIÓN BÁSICA DEL ESTADO DE MORELOS
DIRECCIÓN DE EDUCACIÓN MEDIA
DEPARTAMENTO DE EDUCACIÓN SECUNDARIA TÉCNICA
ESCUELA SECUNDARIA TÉCNICA No.40
CLAVE: 17DST0048B CUAUTLA, MORELOS.



DOCENTE	BIBIANA BARRETO MORALES
GRADO	1ER
ASIGNATURA	GEOGRAFÍA
PERIODO	SEMANA 24 DE ENERO AL 4 DE FEBRERO 2022.
ACTIVIDADES	<p>I.- Revisa las siguientes páginas de tu libro, en ellas encontrarás información relacionada con los 3 siguientes subtemas:</p> <ul style="list-style-type: none"> • Interpreta y representa información geográfica en mapas. Págs.32-35 • Dinámica interna de la tierra y su relación con la sismicidad y el vulcanismo págs. 48-55. • Tipos de relieve su conformación y distribución, págs. 56-61 <p>II.- observa detalladamente las imágenes y contesta de acuerdo a lo que se solicita</p> <p>1. Completa los espacios con las palabras que se proponen a continuación: escala, rosa de los vientos, simbología o leyenda y título.</p> <p>A. <input type="text"/> Nombra el contenido o tema que trata el mapa.</p> <p>B. <input type="text"/> Señala el número de veces que la zona representada en el mapa se redujo para su representación. Pueden expresarse de forma gráfica y numérica.</p> <p>C. <input type="text"/> Se refiere al conjunto de signos, líneas, colores, figuras u otros elementos que permiten interpretar la información del mapa.</p> <p>D. <input type="text"/> Círculo que simboliza e indica los puntos cardinales.</p> <p>2. Observa el mapa y coloca las letras que le corresponden a cada uno de sus elementos.</p> <div data-bbox="600 1375 1437 1953" data-label="Figure"> <p>Movimientos migratorios en el mundo</p> <p>0 1 850 3 700 km</p> <p>Fuente: http://migranteslatino.com/2017/2013/3/trava-novos-kana-mov-de-10-bilhoes-de-migrantes-antes-de-2025/ (fecha de consulta 20 de marzo de 2016)</p> </div>

II.- Observa el mapa y haz lo que se pide a continuación.

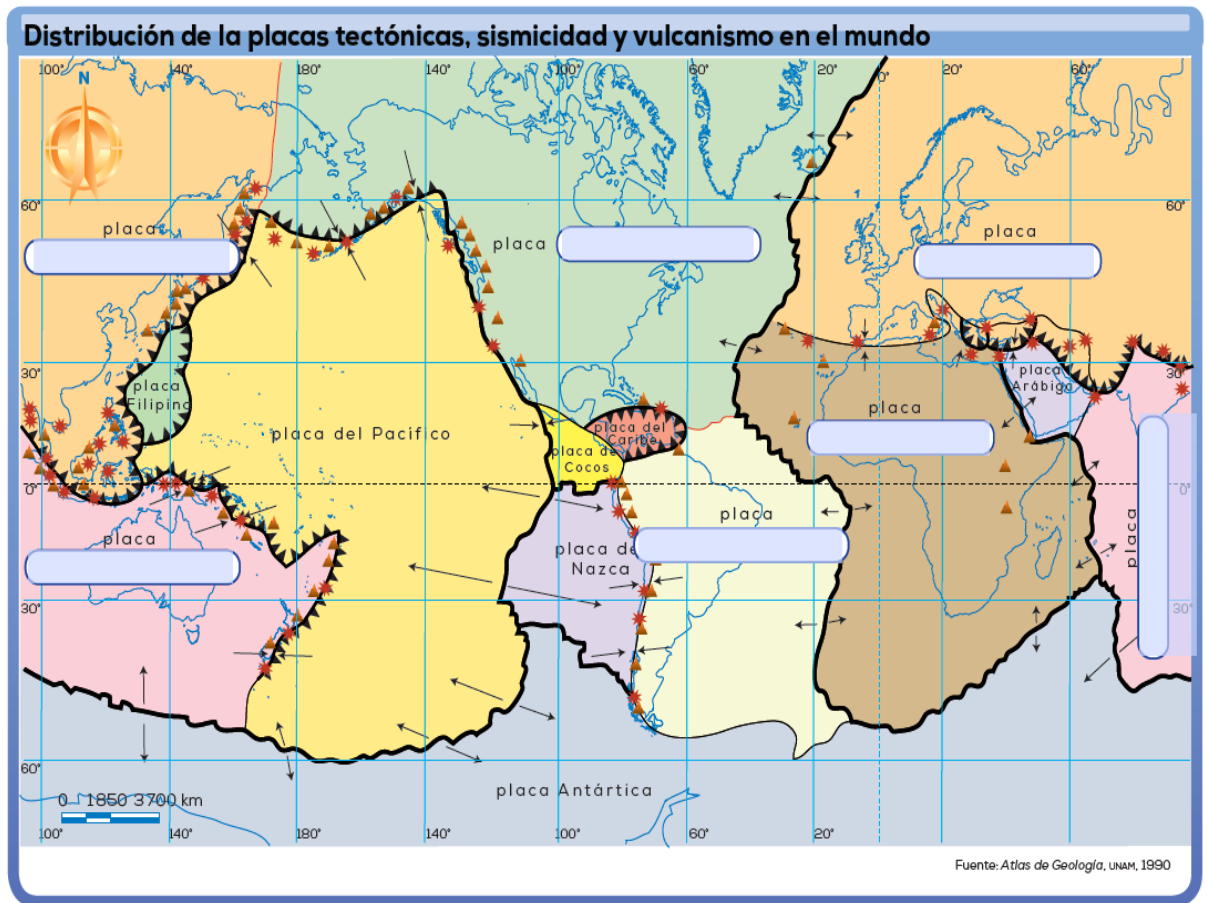
1.- Escribe el nombre de las placas tectónicas que se señalan en el mapa

2.- Nombra las placas de menor dimensión: _____

3 -Escribe el nombre de las Placas de gran dimensión en donde no hay tierras continentales o habitadas:







4.- investiga el nombre de un volcán activo de cada continente:

5.- Enumera las consecuencias de un sismo:



III.- Relaciona y une con una línea los conceptos de las formas básicas del relieve continental

Si necesitas más información puedes consultar la explicación en el siguiente enlace <https://www.youtube.com/watch?v=fGVf7ZclujM>

	 <p>MONTAÑAS</p>  <p>LLANURAS O PLANICIES</p>  <p>MESETAS</p>  <p>CORDILLERA</p>  <p>DEPRESIONES</p>  <p>COLINA</p>	<p>Son elevaciones de poca pendiente, es una altiplanicie extensa y elevada a una determinada altura encima de los 500 metros sobre el nivel del mar.</p> <p>Son terrenos con menor altitud que la superficie que los rodea, algunas se deben al hundimiento derivados de la actividad tectónica.</p> <p>Es un conjunto de montañas cuyas cumbres presentan una apariencia quebrada o aserrada, están enlazadas entre sí.</p> <p>Son elevaciones del terreno, un conjunto de rocas, tierra, piedras, y en su caso lava, que forman una elevación natural (mayor de 700 m).</p> <p>Son extensiones de tierra plana, o con ligeras ondulaciones y suelen ser aprovechables para la agricultura y la ganadería.</p> <p>Es una elevación de menor altura, a diferencia de las montañas, no superan los 100 metros.</p>
PRODUCTOS PARA EVALUAR	<p>I.-Completar los espacios con los elementos del mapa.</p> <p>II.-Cuestionario y planisferio de placas tectónicas.</p> <p>III. Relación de conceptos con su imagen.</p>	
CRITERIO DE EVALUACIÓN	<ul style="list-style-type: none"> • Que las respuestas estén bien redactadas y tengan coherencia. • Identificar en los mapas lo que se solicita. • Relacionar correctamente los conceptos. 	
OBSERVACIONES	<p>Elabora tus productos en el formato tal como se te indica en las actividades, estas se revisarán de forma presencial en cuanto sea posible el regreso a clases y por favor no bajes la guardia en tus medidas sanitarias para un pronto regreso.</p>	